

Дата	Событие
1. 6 декабря 1941	а) Танковое сражение у д. Прохоровка
2. 19 ноября 1942	б) Начало Второй мировой войны.
3. 5 июля 1943 г.	в) Контрнаступление войск Красной Армии под Сталинградом.
4. 1 сентября 1939	г) Контрнаступление советских войск под Москвой
5. 22 июня 1941	д) Начало работы Тегеранской конференции.
6. 12 июля 1943 г.	е) Договор о ненападении СССР– Германия.
7.28 сентяб. 1938	ж) Курская битва
8. 23 августа 1939	з) Начало Великой Отечественной войны.
9. 28 ноября 1943	и) Открытие второго фронта
10. июнь 1944 г.	ж) Форсирование Днепра
11. ноябрь 1943 г.	з) Мюнхенский сговор.



Третий период войны(1944-1945гг.)



СООТНОШЕНИЕ СИЛ СССР И ГЕРМАНИИ К 1.01.1944 г.

Показатели	СССР	Германия
Личный состав армии	11 млн чел.	10 млн чел.
Орудия и миномёты	ок. 150 тыс.	68 тыс.
Танки и САУ	12 тыс.	12 тыс.
Боевые самолёты	21 тыс.	5,5 тыс.

НА СОВЕТСКО-ГЕРМАНСКОМ ФРОНТЕ (НА 1.01.1944)

Показатели	СССР	Германия
Личный состав армии	6,4 млн чел.	4,2 млн чел.
Орудия и миномёты	96 тыс.	47 тыс.
Танки и САУ	5,3 тыс.	5,3 тыс.
Боевые самолёты	10,2 тыс.	2,8 тыс.

ОБЩИЙ ХОД ВОЕННЫХ ДЕЙСТВИЙ НА СОВЕТСКО-ГЕРМАНСКОМ ФРОНТЕ. Январь 1944 г. — май 1945 г.



Десять

ударов.



Десять сталинских ударов.

№	Дата	Операция	Командующие	Итог
1				
2				
3				
4				
5				
6				
7				
8				
9				
10				

1. Январь 1944 - Ленинградско-Новгородская операция. **Итог:** полное снятие блокады Ленинграда




2. Январь-февраль 1944. Корсунь-Шевченковская операция

5. Июнь – август 1944 - Операция «Багратион».


Итоги освобождения



 Территория, оккупированная Германией

Когда был открыт второй фронт в Европе? Где это произошло?

NORTHWESTERN EUROPE, 1940
OVERLORD PLAN, COMBINED
BOMBER OFFENSIVE, AND GERMAN
DISPOSITIONS, 6 JUNE 1944



Страны, освобожденные
советскими солдатами:



Продолжите фразу:
«События,
обозначенные на
схеме стрелками,
начались в тысяча
девятьсот

году».

Укажите название
города,
обозначенного на
схеме цифрой «1».

Укажите название
города,
обозначенного на
схеме цифрой «2».

Какие суждения, относящиеся к событиям, обозначенным на схеме, являются верными? Выберите три суждения из шести предложенных. Запишите в таблицу цифры, под которыми они указаны.

- 1) События, обозначенные на схеме, являются частью коренного перелома в ходе Великой Отечественной войны.
- 2) События, обозначенные на схеме, произошли после открытия союзниками Второго фронта в Европе
- 3) На схеме обозначены действия Красной армии в ходе проведения операции «Уран».
- 4) Город Кенигсберг был взят Красной армией в ходе событий, обозначенных на данной схеме.
- 5) На схеме обозначены действия Красной армии в ходе проведения операции «Багратион».
- 6) В ходе событий, обозначенных на схеме, территория Белорусской ССР была полностью освобождена от немецко-фашистских захватчиков.

Где произошла первая конференция
“Большой тройки”? Кто в ней
участвовал?

Где произошла вторая конференция
“Большой тройки”?

февраль 1945 - Ялтинская (Крымская) конференция союзных держав



Почему положение Третьего
Рейха стало безнадежным?

Где встретились советские
и американские войска?

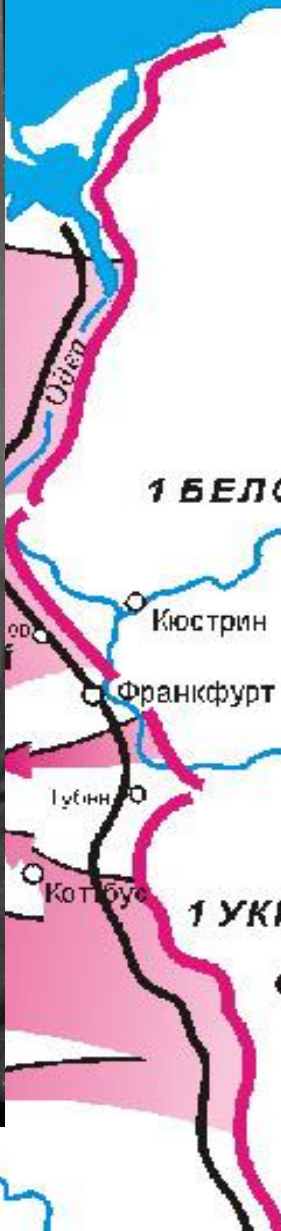
25 апреля 1945 года – встреча на Эльбе. Войска 1-го Украинского фронта армии СССР встретились с войсками 1-й армии США.



Столица Третьего Рейха?

ятие
урм







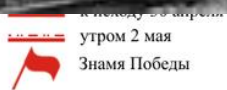
Главное здание Третьего Рейха?



1970. P. Z. - BERLIN. REICHSTAGSGEBÄUDE



сп - стрелковый полк



утром 2 мая

Знамя Победы

цифрами обозначены:

- ① здание швейцарского посольства
- ② пл. Кёниг-Плац
- ③ здание театра "Кроль-опера"



М.Егоров



М.Кантария





message to the German people. We are now going to play a game of hide-and-seek with the English. I finally, the enemy at their place, we will give them a lesson.

Hitler's dark eyes were staring at his listeners. He was the master of the stage. He was the master of the stage. He was the master of the stage.

He was the master of the stage. He was the master of the stage. He was the master of the stage. He was the master of the stage. He was the master of the stage.

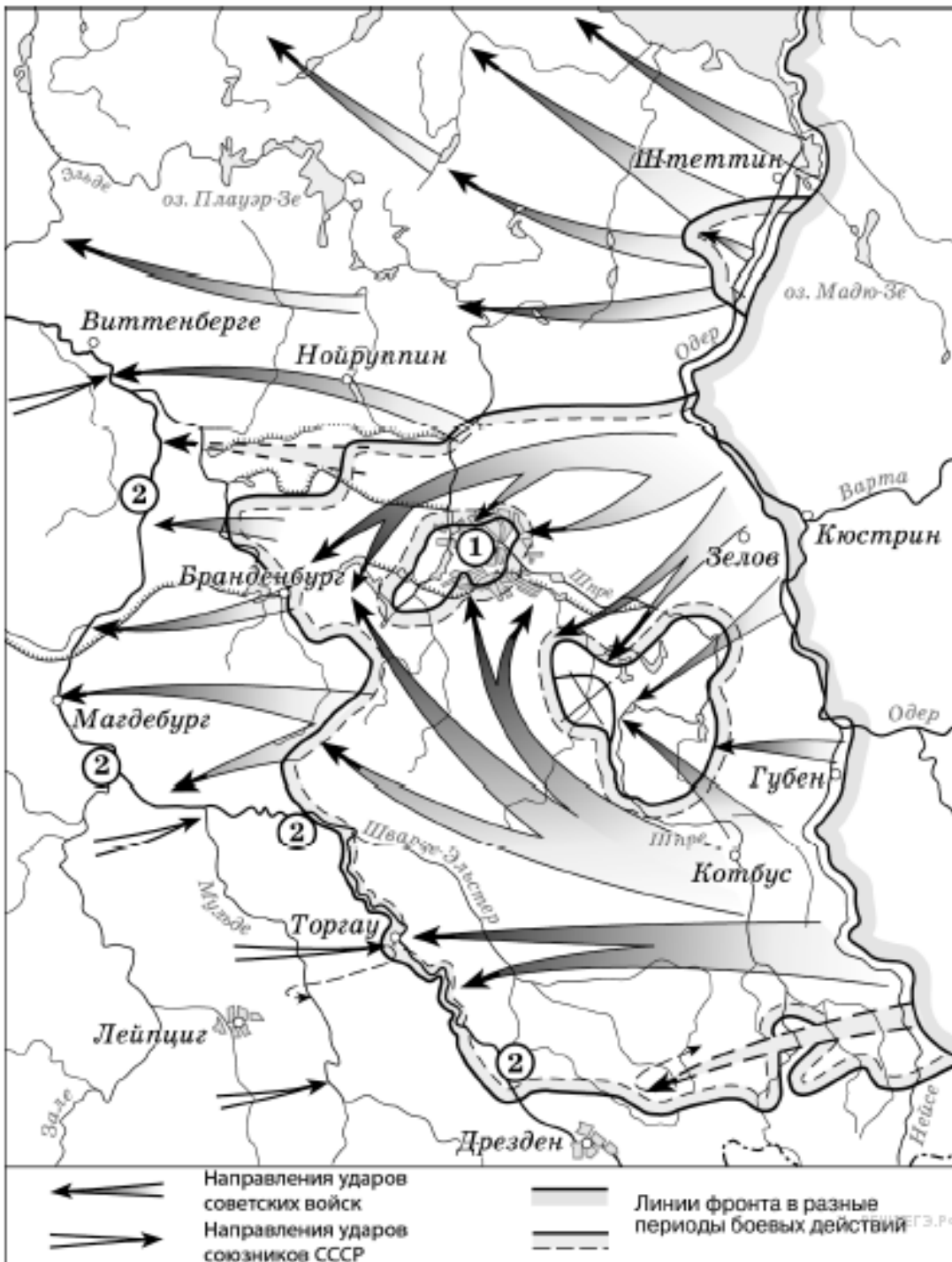
Какую столицу Красная армия
освободила последней?

Май 1945 – освобождение
Праги



Я ЖДАЛ ТЕБЯ ВОИН-ОСВОБОДИТЕЛЬ!
ОСВОБОДИМ ВСЕХ СОВЕТСКИХ ЛЮДЕЙ ИЗ ФАШИСТСКОЙ НЕВОЛИ.

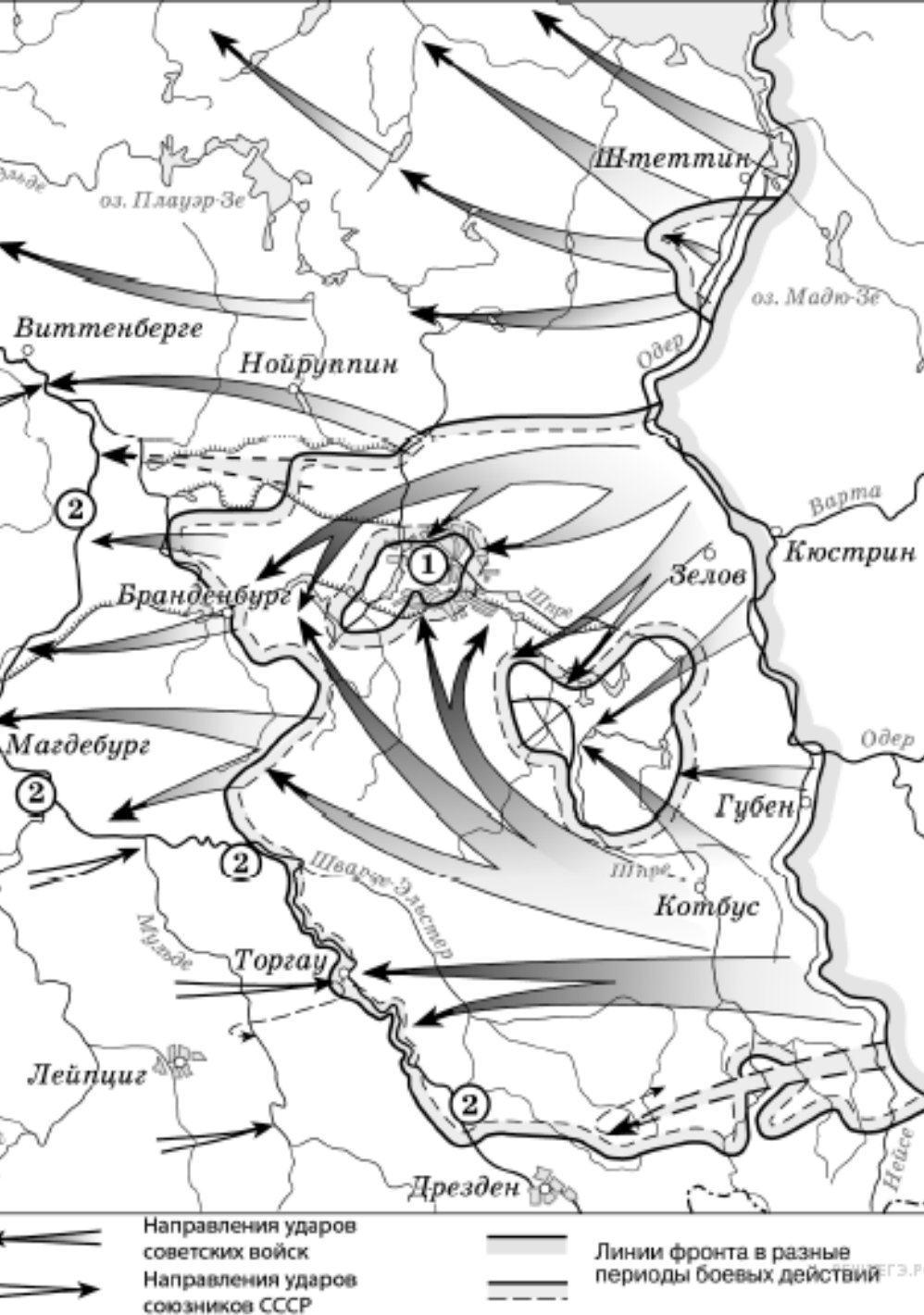
Прага встречает воинов освободителей.



Укажите название города, обозначенного на схеме цифрой «1».

Назовите месяц 1945 г., когда начались боевые действия, обозначенные на карте стрелками.

Укажите название реки, обозначенной на схеме цифрами «2».



- 1) На схеме обозначены действия Красной армии в ходе проведения операции «Багратион».
- 2) События, обозначенные на схеме, происходили позже встречи руководителей держав «Большой тройки» в Крыму.
- 3) События, обозначенные на схеме, являются частью коренного перелома в ходе Великой Отечественной войны.
- 4) События, обозначенные на данной схеме стрелками, длились около полугода.
- 5) С окончанием военных действий, обозначенных на схеме, Вторая мировая война ещё не была закончена.
- 6) Одним из фронтов Красной армии, участвовавших в событиях, обозначенных на схеме, командовал Г. К. Жуков.



Стр. 62 Потсдамская конференция

Участники, решения:



17.07-
2.08.1945г.

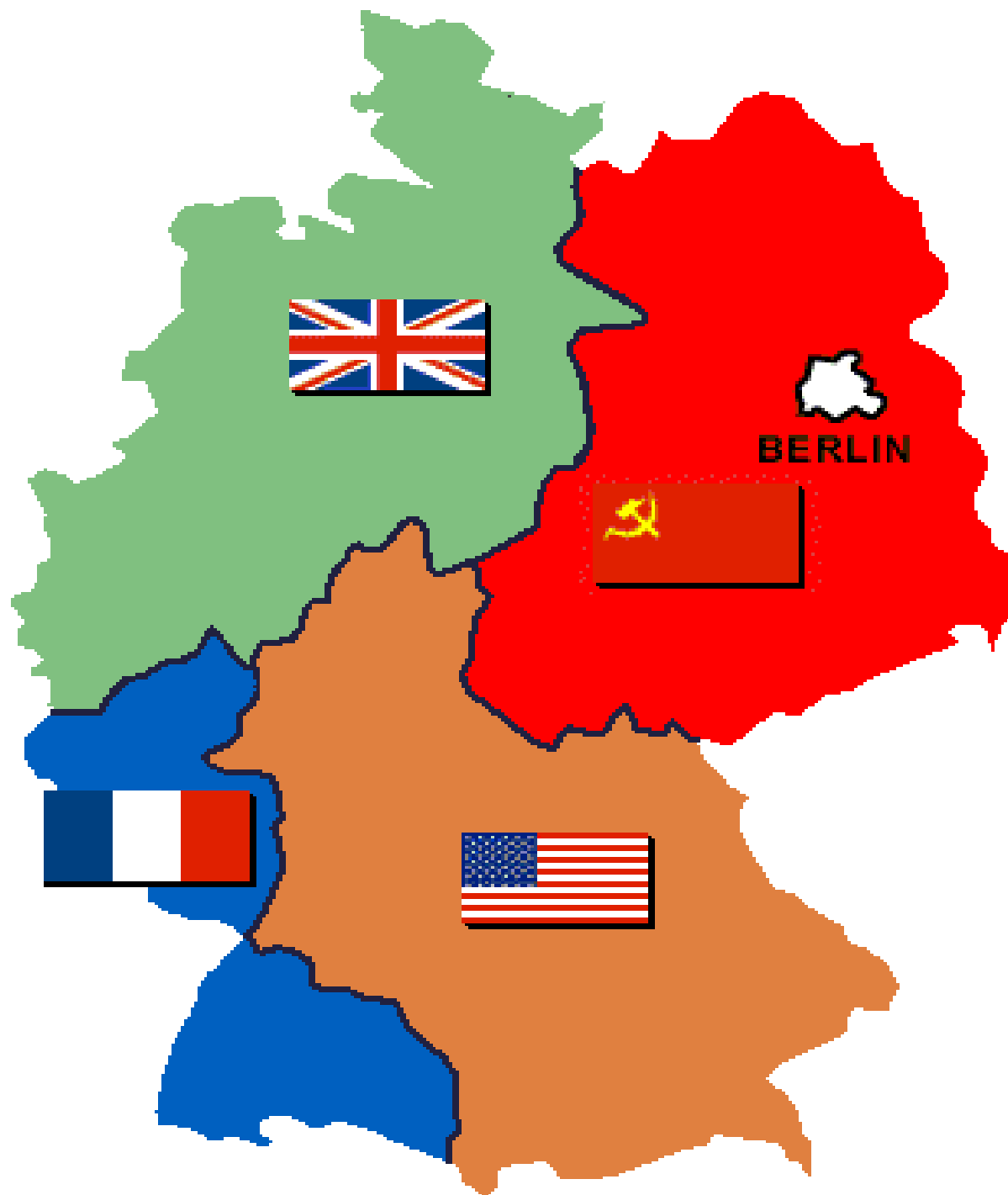
4 Д

Войска 4
стран

Границы в
Европе

Репарации

Раздел
Восточной
Пруссии







Парад ПОБЕДЫ 24 июня 1945 года.

С кем советские войска будут
воевать летом-осенью 1945?

9 августа - 2 сентября – советско-японская война









Представитель СССР К. Н. Деревянко ставит свою подпись под актом о капитуляции Японии



Напишите фамилию исторического деятеля, к периоду руководства которого Советским государством относятся события, обозначенные на схеме.

➡ ➡ ➡ Направления ударов советских войск

РЕШУЕГЭ.РФ

Напишите название страны, обозначенной на схеме цифрой «1».

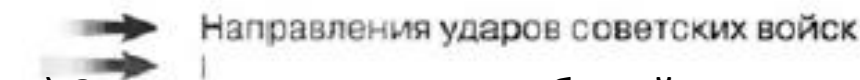
Напишите название острова, обозначенного на схеме цифрой «3».



1) В период военных действий, обозначенных на схеме, противником СССР и союзником обозначенной цифрой «1» страны были США.

2) Главкомандующим советскими войсками в военных операциях, обозначенных на схеме, был Г. К. Жуков.

3) По итогам войны, события которой обозначены на схеме, СССР получил южную часть острова, обозначенного цифрой «3».




4) За несколько лет до событий, которым посвящена схема, СССР защитил от вторжения войск страны, обозначенной цифрой «1», территорию страны, обозначенной на схеме цифрой «2».

5) Наступление советских войск, показанное на схеме, осуществлялось исключительно с территории СССР.

6) Обозначенный на схеме цифрой «4» порт в самом начале XX в. служил базой Тихоокеанской эскадры Российской империи.

ИТОГИ :

- 1) Поражение стран “Оси”
- 2) 25-27 млн. погибших в СССР
- 3) Экономические потери СССР – 30%
достояния страны
- 4) СССР получил Восточную Пруссию
(Кёнигсберг), южный Сахалин и Курильские
острова
- 5) СССР и США - сверхдержавы



**ДОЙДЕМ
ДО БЕРЛИНА!**

**КРАСНОЙ АРМИИ
-СЛАВА!**



Виктор ИВАНОВ-О

ТЫ ВЕРНУЛ НАМ ЖИЗНЬ!

ПРИЧИНЫ ПОБЕДЫ СССР В ВЕЛИКОЙ ОТЕЧЕСТВЕННОЙ ВОЙНЕ.

- ✗ – Героизм и сплоченность советского народа.
- ✗ – Окрепшая в войне, сила Красной Армии, выросшее военное искусство полководцев.
- ✗ – Единство фронта и тыла
- ✗ - Чувство патриотизма, сплочение всех национальностей.
- ✗ – Героическая борьба партизанских соединений и подполья.
- ✗ – Централизованная экономика СССР.
- ✗ – Создание антигитлеровской коалиции, открытие второго фронта

Какие решения были приняты на Потсдамской конференции?

- 1) о разделе Восточной Пруссии между Польшей и СССР
- 2) об отказе использовать атомное оружие в войне
- 3) о системе четырехсторонней оккупации Германии и об управлении Берлином
- 4) о денацификации Германии
- 5) о разделе Германии на два государства
- 6) о принятии СССР «плана Маршала»

Какие из перечисленных территорий вошли в состав СССР по итогам Второй мировой войны?

- 1) Кёнигсбергская (Калининградская) область
- 2) Уссурийский край
- 3) Нахичиваньская область
- 4) Южный Сахалин
- 5) Курильские острова
- 6) Приднестровье

Событие	Дата	Участник(-и)
Наступательная операция «Оверлорд»	_____ (А)	Д. Эйзенхауэр, Б. Монтгомери
Сталинградская битва	_____ (Б)	_____ (В)
_____ (Г)	Август–декабрь 1943 г.	Г. К. Жуков, К. К. Рокоссовский, И. С. Конев
Битва за Москву	_____ (Д)	_____ (Е)

- 1) М. А. Егоров, М. В. Кантария
- 3) Я. Ф. Павлов
- 5) битва за Днепр
- 7) июль 1942 г. – февраль 1943 г.
- 9) май 1942 г.
- 2) сентябрь 1941 г. – апрель 1942 г.
- 4) битва на Курской дуге
- 6) июнь–август 1944 г.
- 8) И. В. Панфилов